

Всероссийская олимпиада школьников по обществознанию

Школьный этап

7-й класс

Время выполнения работы – 60 минут (максимум – 65 баллов).

№ задания	1	2	3	4	5	6	Сумма баллов
Макс. балл	20	10	10	6	10	9	65 баллов
Балл участника							

1. Задания для выбора ответа («да» – высказывание верно, «нет» – высказывание неверно). Внесите свои ответы в таблицу (20 баллов).

1.1. В различных обществах модели семейных отношений могут существенно различаться.

1.2. Религия влияет на отношение верующего к окружающему миру.

1.3. В наиболее развитых странах нет демографических проблем.

1.4. Оскорбление является формальной негативной санкцией.

1.5. Общим критерием общественного прогресса является совершенствование науки и техники.

1.6. Общество является частью живой природы.

1.7. Социальной мобильностью называют любое изменение положения человека в обществе.

1.8. Для любого государства характерно уважение прав и свобод человека.

1.9. Экономическая наука способна полностью ликвидировать недостаток факторов производства.

1.10. Отличительным признаком личности является наличие физических потребностей.

1.1	1.2	1.3	1.4	1.5	1.6	1.7	1.8	1.9	1.10

2. Кто или что является лишним в следующих рядах? Выпишите это слово и обоснуйте свой выбор (10 баллов).

1. Объективность, системность, художественность, доказательность	
2. Мировоззрение, задатки, ценности, интересы	
3. Молодёжь, татары, пенсионеры, дети	
4. Буддизм, ислам, индуизм, христианство	

5. Сказки, народные песни, детективы, былины	
--	--

3. Прочитайте текст и выполните задания (10 баллов).

По данным Всесоюзной переписи населения, в 1970 г. в СССР проживали 241729 тыс. человек. Из них 57 % проживали в городах и 42 % – в сельской местности. В структуре ВВП на долю сельского хозяйства (включая охоту и рыболовство) приходилось 16,3 %, на долю промышленности (включая строительство) – 45,7 %, на долю сферы услуг (включая торговлю, транспорт и связь) – 38 %.

3.1. На основании этих статистических данных определите, к какому историческому типу общества можно отнести СССР. Обоснуйте вывод. _____

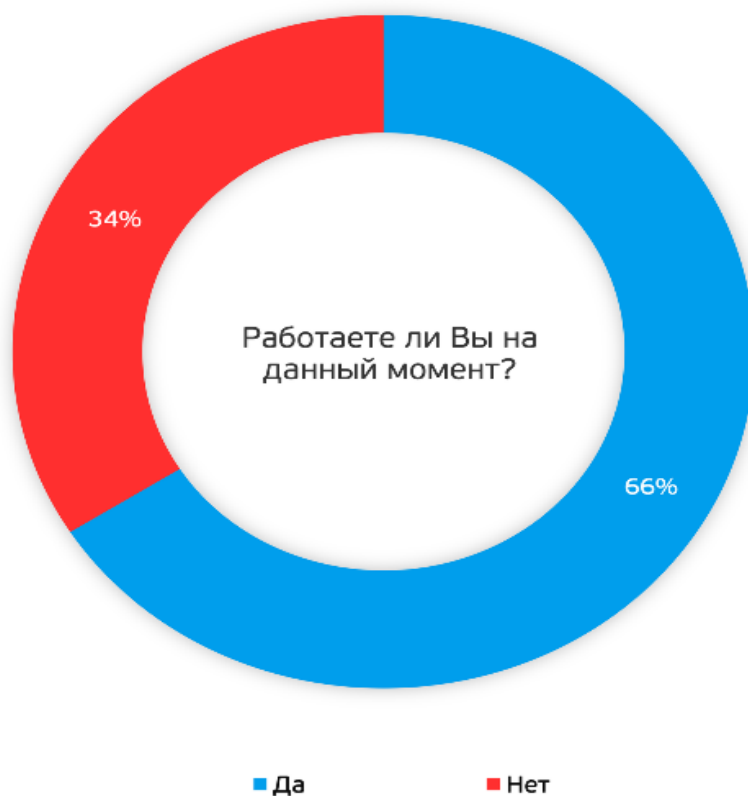
3.2. Укажите любые три критерия выделения исторических типов общества. _____

3.3. Определите, о каких сферах общественной жизни идёт речь в тексте.

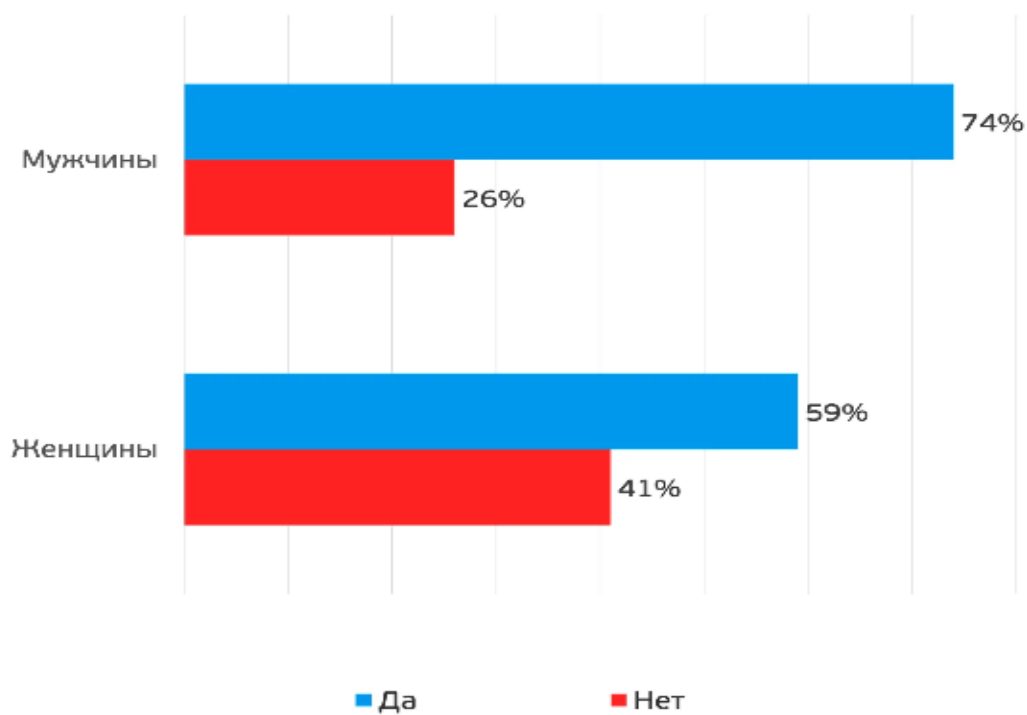
4. Проанализируйте информацию и выберите верные варианты из предложенных ниже утверждений (ДА/НЕТ). Заполните таблицу (6 баллов).

1. 26 % неработающих – мужчины.
2. Больше половины неработающих людей имеют личный доход менее 40 тысяч рублей.
3. Наибольший процент работающих – среди респондентов 30–44 лет.
4. Если доход семьи респондента больше 90 тысяч рублей, то вероятность того, что он работает, – 85 %.
5. 59 % женщин работает.
6. Большая часть неработающих – пенсионеры.

1	2	3	4	5	6

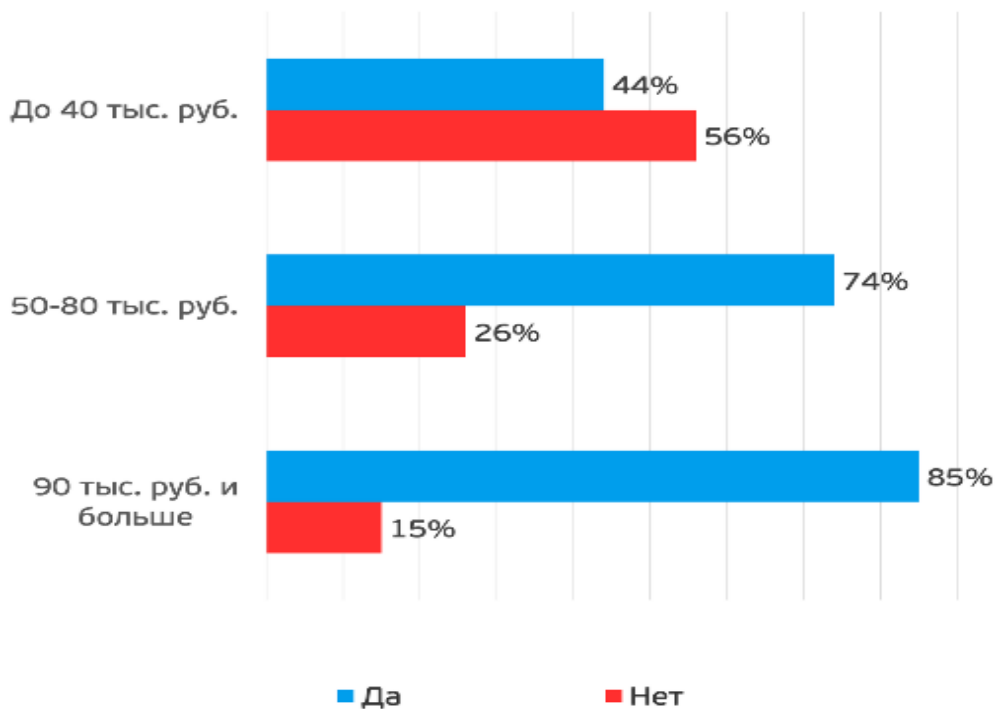


Работаете ли Вы на данный момент?



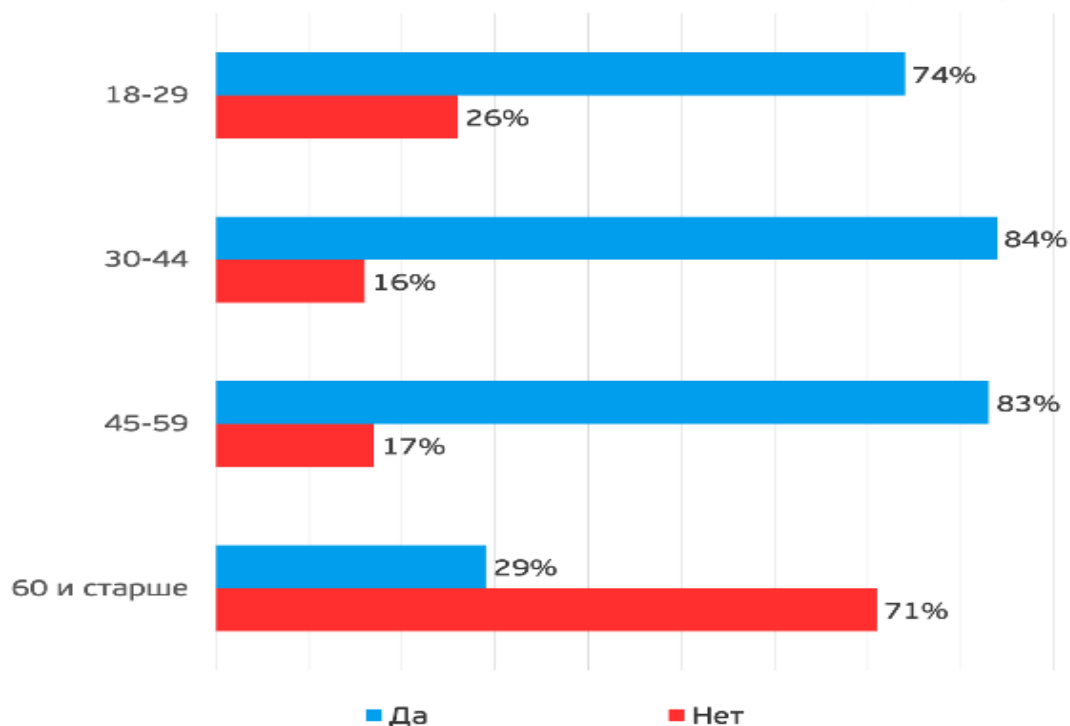
Работаете ли Вы на данный момент?

*в разрезе совокупного семейного дохода в месяц



Работаете ли Вы на данный момент?

*в разрезе возраста



5. Заполните таблицу, распределив изображения на три группы. Впишите названия этих групп. Назовите общее понятие, которое объединяет представленные изображения, и дайте определение этого термина (10 баллов).



